
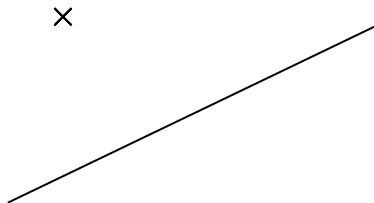

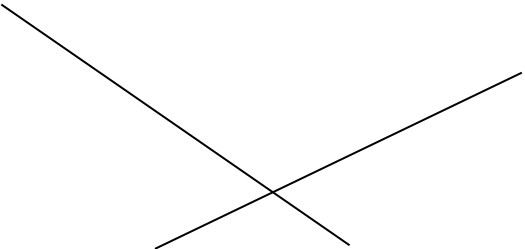
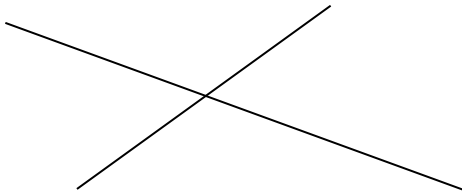


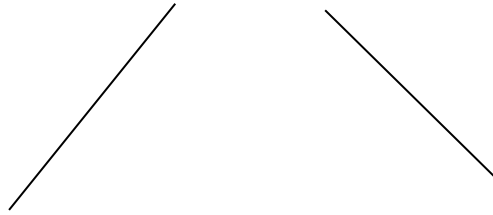



Abstände

In den einzelnen Kästchen sind verschiedene geometrische Figuren abgebildet. Zeichne alle möglichen Abstandsstrecken ein und schreibe den jeweils gemessenen Abstand an die entsprechende Strecke. Dabei sind alle dargestellten Linien Geraden. Die Kreuze markieren Punkte.

<p>a)</p> 	<p>b)</p> 
<p>c)</p> 	<p>d)</p> 
<p>e)</p> 	<p>f)</p> 
<p>g)</p> 	<p>h)</p> 
<p>i)</p> 	<p>j)</p> 